



Дорогие ребята группы «Капельки».


Сегодня я узнала, что почтальон Печкин из Простоквашино решил совершить путешествие на своем любимом велосипеде, но ему объяснили, чтобы отправиться в дальнюю дорогу нужно много уметь и знать, потому что в дороге все знания пригодятся. В итоге Печкин растерялся и никак не может определиться, как нужно ему пройти этот нелёгкий путь, ведь впереди его ждут непростые задания. Я предлагаю вам помочь Печкину. Давайте поделимся своими знаниями и отправим Печкину письмо с ответами и тогда он отправиться в путешествие.



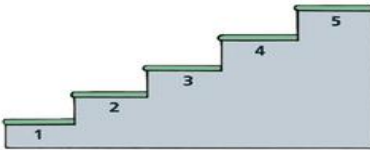
Задание 1

3

Рассмотри изображение и запомни, кто на какой ступеньке стоит. Закрой эту часть листом бумаги.



Назови, кто стоял на ступеньках.



4

Внимательно рассмотри предметы, назови их и запомни изображения. Закрой книжку и назови те предметы, которые ты запомнил.



5

Рассмотри внимательно рисунки в кругах. Какого цвета каждый круг? Сколько предметов в каждом кругу? Что это за предметы? Какие они? Запомни рисунки и переверни страничку.



6

7

Задание 2



Тест

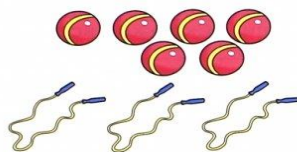
12

Математика

Составь и реши задачи.

Цель: Проверять умение решать математические задачи, составлять условие задачи.

Мячей — штук.
Скакалок на 3 меньше.
Сколько скакалок?



Книг — штуки.
Тетрадей на 2 больше.
Сколько тетрадей?



Саша поймал шесть рыбок, а Дима на четыре больше. Сколько рыбок поймал Дима?



12



Тест

1

Окружающий мир

Назови, что растёт в лесу, саду и огороде.


Цель: Проверять умение различать, что растёт в лесу, саду, огороде.



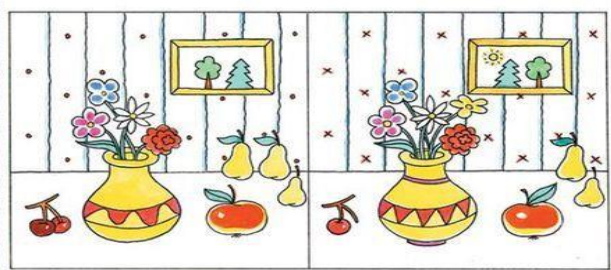
13

Задание 3

- 3 Соедини каждую лягушку с той лилией, которая подходит ей по размеру.




- 4 Сравни картинку и найди 10 отличий.



6

- 5 Соедини каждого гонщика с подходящим автомобилем. Знаки на куртках гонщиков и машинах помогут тебе принять правильное решение.



Сравни машины и найди отличия.

7

Задание 4




Тест

12

Внимание

Рассмотри в образце значки, изображённые в различных фигурах. В остальных фигурах нарисуй такие же.



12




Тест

1

Мышление

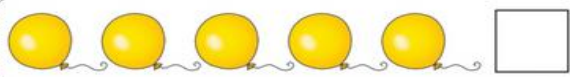
Разложи фигуры по коробкам. В красную — все большие синие квадраты. В синюю — все круглые предметы и все маленькие. В зелёную — все треугольники.



13

Задание 5


- 3 Сколько предметов в каждой группе? Напиши числа в клеточках.





- 4 Сосчитай количество предметов в каждой группе. Напиши числа в кружочках.

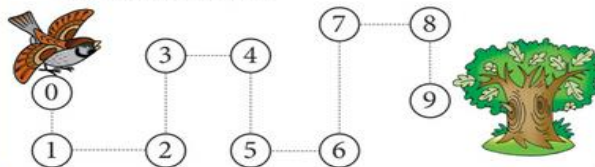




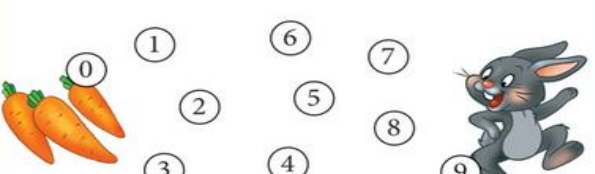
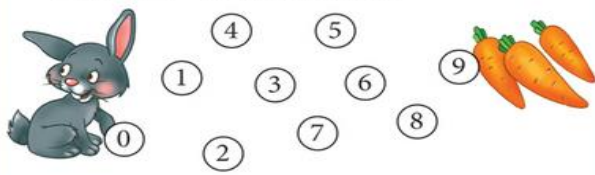




- 5 Покажи воробышке путь до дерева. Аккуратно води карандашом по пунктирной линии через все числа, чётко называя каждое.



- 6 Помоги зайчикам добраться до морковок. Проведи дорожку через все числа от 0 до 9 на первом рисунке и от 9 до 0 – на втором рисунке.



Поставь нужные числа.

$2 > \boxed{1}$

$3 > \boxed{}$

$9 = \boxed{}$

$4 < \boxed{}$

$7 < \boxed{}$

$8 > \boxed{}$

$5 = \boxed{}$

$5 < \boxed{}$

$10 > \boxed{}$

$7 > \boxed{}$

$3 < \boxed{}$

$4 > \boxed{}$

$8 < \boxed{}$

$9 < \boxed{}$

$3 = \boxed{}$

$10 = \boxed{}$

$2 < \boxed{}$

$1 = \boxed{}$

Расставь знаки $>$, $<$, $=$.

$1 < 3$

$6 \quad 4$

$2 \quad 7$

$4 \quad 4$

$9 \quad 7$

$5 \quad 4$

$6 \quad 2$

$10 \quad 10$

$8 \quad 3$

$8 \quad 4$

$3 \quad 7$

$5 \quad 1$

Молодцы ребята!

Почтальон Печкин получил ответы на все вопросы и теперь может отправляться в дорогу на своем любимом велосипеде!

